

Osnove potresnega inženirstva, enačbe za 1. kolokvij

$$E_{beton} = 33 * 10^6 \frac{kN}{m^2} \quad E_{jeklo} = 21 * 10^7 \frac{kN}{m^2}$$

$$T = 2\pi \sqrt{\frac{m}{k}} \quad \omega = \frac{2\pi}{T} \quad \nu = \frac{1}{T}$$

1. Enačba gibanja

$$f_I(t) + f_D(t) + f_E(t) = f(t)$$

$$f_I(t) = m\ddot{u}(t); f_D(t) = c\dot{u}_r(t); f_E(t) = ku_r(t)$$

$$m\ddot{u}(t) + c\dot{u}_r(t) + ku_r(t) = f(t)$$

Lastno nihanje: $f(t) = 0$

$$m\ddot{u}(t) + c\dot{u}_r(t) + ku_r(t) = 0$$

Nedušeno nihanje: $c = 0$

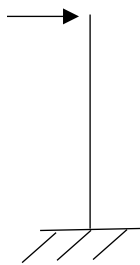
$$m\ddot{u}(t) + ku_r(t) = 0$$

Statični primer: $\ddot{u} = 0; \dot{u} = 0$

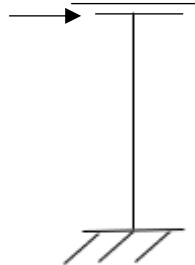
$$F = ku_r$$

Togost


Konzola



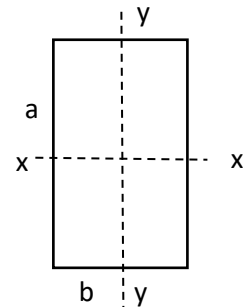
$$k = \frac{3EI}{h^3}$$



$$k = \frac{12EI}{h^3}$$



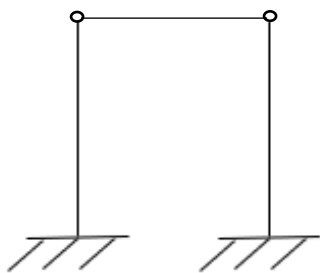
$$k = \frac{EA}{h}$$



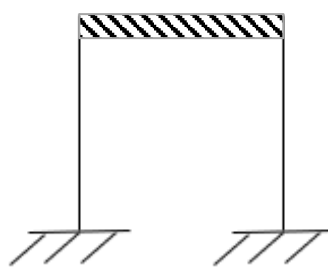
$$I_x = \frac{ab^3}{12} \quad k_x = \frac{3EI_y}{h}$$

$$I_y = \frac{a^3b}{12} \quad k_y = \frac{3EI_x}{h}$$

$$k_z = \frac{EA}{h}$$



$$k = \frac{3EI}{h^3} * 2$$



$$k = \frac{12EI}{h^3} * 2$$

Vzporedna vezava:

$$k = \sum_{i=1}^n k_i \quad \frac{1}{d} = \sum_{i=1}^n \frac{1}{d_i}$$

Zaporedna vezava:

$$\frac{1}{k} = \sum_{i=1}^n \frac{1}{k_i} \quad d = \sum_{i=1}^n d_i$$

2. Numerično reševanje enačbe gibanja

$$\dot{u}_k = \dot{u}_z + \frac{\Delta t}{2} (\ddot{u}_z + \ddot{u}_k)$$

$$u_k = u_z + \dot{u}_z \Delta t + \frac{\Delta t^2}{\omega} (\ddot{u}_z + \ddot{u}_k)$$

$$u_k = \frac{\bar{F}_k}{\bar{K}_k}; \quad \bar{F}_k - \text{nadomestna sila}, \bar{K}_k - \text{nadomestna togost}$$

$$\dot{u}_k = \frac{2}{\Delta t} (u_k - u_z) - \dot{u}_z$$

$$\ddot{u}_k = \frac{4}{\Delta t^2} (u_k - u_z) - \frac{4}{\Delta t} \dot{u}_z - \ddot{u}_z$$

Nadomestna sila:

$$F = f_k + \left(\frac{u}{\Delta t^2} u_z + \frac{k}{\Delta t} \dot{u}_z + \ddot{u}_z \right) m + \left(\frac{2}{\Delta t} u_z + \dot{u}_z \right) c$$

Nadomestna togost:

$$K = \frac{4}{\Delta t^2} m + \frac{2}{\Delta t} c + k$$

3. Lastno neduženo nihanje:

$$u(t) = \frac{\dot{u}_z}{\omega} \sin(\omega t) + u_0 \cos(\omega t)$$

4. Lastno dušeno nihanje:

$$c = 2\xi m \omega$$

$$u = e^{-\xi \omega t} \left(\frac{u_0 + \xi \omega u_0}{\omega_D} \sin(\omega_D t) + u_0 \cos(\omega_D t) \right)$$

Krožna frekvenca dušenega nihanja - ω_D :

$$\omega_D = \omega \sqrt{1 - \xi^2}; \quad \xi = \frac{c}{c_{CR}} = 0,05; \text{ če ni drugače določeno}$$

Nihajni čas dušenega nihanja:

$$\frac{T_D}{T} = \frac{1}{\sqrt{1 - \xi^2}} \rightarrow T \approx T_D$$

$$T = 2\pi \sqrt{\frac{m}{k}} \quad \omega = \frac{2\pi}{T} \quad \nu = \frac{1}{T}$$

Logariterni dekrement

$$\delta = \ln \frac{(u(t))}{(u(t + t_D))} = 2\pi\xi \quad \xi = \frac{\delta}{2\pi}$$

5. Konstantna obtežba; $c=0$

$$DF = \frac{u(t)}{u_{st}} = (1 - \cos \omega t)$$

$$DF_{max} = \frac{\max |u(t)|}{u_{st}} = 2 \text{ (za konstantno obtežbo)}$$

$$F_{Eq} = DF_{max} f_0 \text{ (ekvivalentna statična obtežba, ki povzroči maksimalen pomik)}$$

6. Konstantna obtežba + dušenje:

$$u(t) = \frac{f_0}{k} (1 - e^{-\xi \omega t} \cos \omega t + \xi \sin \omega t)$$

$$u_{max} = \frac{f_0}{k} (1 + e^{-\xi \pi})$$

$$DF_{max} = 1 + e^{-\xi \pi}$$

7. Naraščajoča obtežba

$$f(t) = \begin{cases} f = \frac{t}{t_1} f_0, & \frac{t}{t_1} < 1 \\ f = f_0, & \frac{t}{t_1} \geq 1 \end{cases}$$

$$DF_{max} = \begin{cases} 1 + \frac{1}{\omega t_1} \sqrt{2(1 - \cos \omega t_1)}, & t_1 > 0 \\ 2, & t_1 = 0 \end{cases}$$

8. Udarne obtežba

$$u(t) = \frac{f_0}{k} (1 - \cos \omega t) \quad \text{konstantna obtežba (pri udarni pravokotni)}$$

$$u(t) = \frac{u_0}{\omega} \sin \omega t + u_0 \cos \omega t \quad \text{lastno nihanje}$$

$$DF_{max} = \begin{cases} 2 \sin \pi \frac{t_1}{T}, & t_1 < \frac{T}{2} \\ 2, & t_1 \geq \frac{T}{2} \end{cases}$$

$$DF_{max} = \frac{2\pi}{T f_0} \int_0^{t_1} f(t) dt = \frac{2\pi}{T f_0} * \text{ploščina obtežbe na grafu } F(t)$$

9. Harmonična obtežba

$$f(t) = f_0 \sin \Omega t$$

$$T_\Omega = \frac{2\pi}{\Omega}; \quad \Omega \dots \text{krožna frekvenca stroja}$$

$$u(t) = \frac{f_0}{k} \frac{1}{1-r^2} (\sin \Omega t - r \sin \omega t)$$

$$DF(t) = \frac{1}{|1-r^2|} (\sin \Omega t - r \sin \omega t) \rightarrow DF(t) = \left| \frac{1}{1-r^2} \right| \quad \text{majhno dušenje}$$

$$r = \frac{\Omega}{\omega} \quad r = 1 \rightarrow \text{resonanca} \quad DF_{max} = \frac{1}{2\xi}$$

$$c \neq 0$$

$$DF_{max} = \frac{1}{\sqrt{(1-r^2)^2 + (2\xi r)^2}}$$

10. Spektri odziva

$$u = u(t, T, \xi, \ddot{u}_r)$$

$$S_d = \max(u(t))$$

$$F_b = k * S_d = m * S_{pa}$$

$$S_{pa} = \omega^2 S_d$$

EC8:

$$\eta \sqrt{\frac{10}{5 + \xi}}; \text{ vrednost } \xi \text{ v } \%$$

$$\xi = 0,05 = 5\% \rightarrow \eta = 1$$

$$S_d = \frac{m}{k} S_{pa} = \frac{S_{pa}}{\omega^2} = (T > T_D; EC8) = \frac{T^2}{4\pi^2} * \frac{a_g S \eta T_C T_D}{T^2} = \frac{a_g S \eta T_C T_D}{4\pi^2}$$

$$0 \leq T \leq T_B : S_e(T) = a_g \cdot S \cdot \left[1 + \frac{T}{T_B} \cdot (\eta \cdot 2,5 - 1) \right]$$

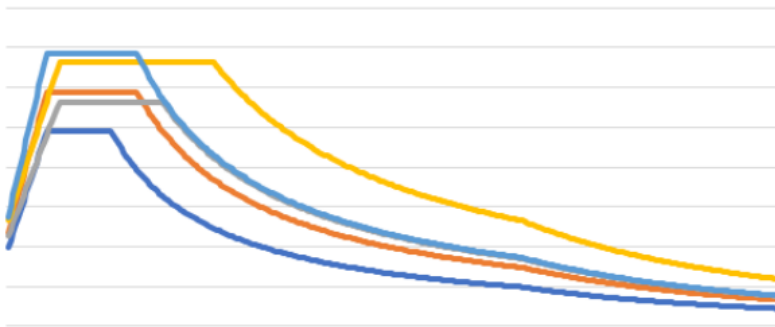
$$T_B \leq T \leq T_C : S_e(T) = a_g \cdot S \cdot \eta \cdot 2,5$$

$$T_C \leq T \leq T_D : S_e(T) = a_g \cdot S \cdot \eta \cdot 2,5 \left[\frac{T_C}{T} \right]$$

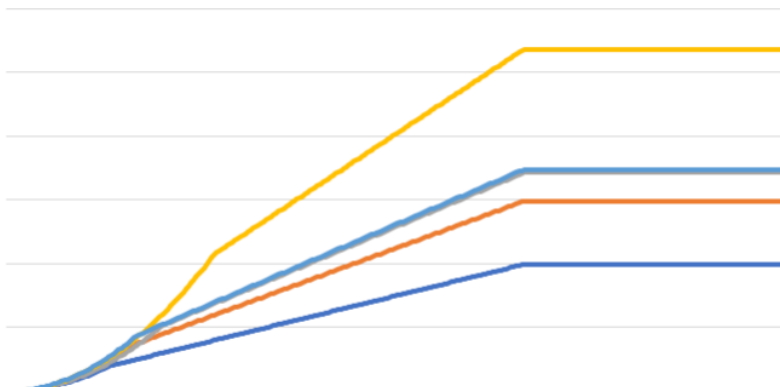
$$T_D \leq T \leq 4s : S_e(T) = a_g \cdot S \cdot \eta \cdot 2,5 \left[\frac{T_C T_D}{T^2} \right]$$

Ground type	S	T _B (s)	T _C (s)	T _D (s)
A	1,0	0,05	0,25	1,2
B	1,35	0,05	0,25	1,2
C	1,5	0,10	0,25	1,2
D	1,8	0,10	0,30	1,2
E	1,6	0,05	0,25	1,2

Spektri pospeškov po EC8



Spektri pomikov po EC8



Osnove potresnega inženirstva, 2. kolokvij

$$E_{beton} = 33 * 10^6 \frac{kN}{m^2} \quad E_{jeklo} = 21 * 10^7 \frac{kN}{m^2}$$
$$T = 2\pi \sqrt{\frac{m}{k}} \quad \omega = \frac{2\pi}{T} \quad \nu = \frac{1}{T}$$

»Pešč« račun:

Člene podajnostnih matrik za konzolne vertikalne elemente (1. in 2. naloga) izračunamo z naslednjo enačbo:

$$d_{ji} = \frac{z_j}{GA_s} + \frac{z_j^2}{6EI} (3z_i - z_j); \quad z_j \leq z_i$$

kjer sta z_i in z_j koti i-te in j-te etaže, G strižni modul, E elastični modul, A_s strižni prerez in I vztrajnostni moment prereza.

Člene podajnostne matrike za okvir (3. naloga) sem izračunal z enačbami:

$$d_{11} = \frac{h_1^2}{12} \left(\frac{1}{4s_1} + \frac{1}{4p_1 + 0,33s_1} \right)$$
$$d_{12} = d_{11} + \frac{h_1 h_2}{48p_1 + 4s_1}$$
$$d_{22} = d_{11} + \frac{h_2^2}{12} \left(\frac{1}{s_2} + \frac{1}{4p_1} + \frac{1}{4p_2} \right) + \frac{h_1 h_2}{24p_1 + 2s_1}$$
$$d_{ji} = d_{jj} + \frac{h_j h_{j+1}}{48p_j}; \quad j < i \text{ in } i \geq 3$$
$$d_{jj} = d_{j-1,j-1} + \frac{h_j^2}{12} \left(\frac{1}{s_j} + \frac{1}{4p_{j-1}} + \frac{1}{4p_j} \right) + \frac{h_{j-1} h_j}{24p_{j-1}}; \quad j \geq 3$$

kjer sta h_i in h_j etažni višini i-te in j-te etaže, s_i in p_i pa prispevka stebrov in prečk v i-ti etaži k togosti okvira. Prispevka s_i in p_i se določita z naslednjima enačbama:

$$s_i = \sum_k \frac{EI_{i,k}}{h_i}$$
$$p_i = \sum_k \frac{EI_{i,k}}{l_{i,k}}$$

Kjer je E elastični modul, $I_{i,k}$ vztrajnostni moment k-tega elementa (stebra ali prečke) v i-ti etaži, h_i višina i-te etaže in $l_{i,k}$ dolžina k-te prečke v i-ti etaži.

Ko izračunamo podajnostno matriko za posamezen element konstrukcije (eno steno, en konzolni steber ali en okvir), dobimo podajnostno matriko tako, da matriko (oz. vse vrednosti v matriki) za posamezni element delimo s številom elementov.

Pri drugi nalogi smo dimenzionirali nosilec. Glede na pogoje (največji dovoljen pomik je 1% višine stebra) smo določili (iz grafa normiranega spektra pomikov - $SF = \frac{a_{g,ciljni}}{a_g}$; $a_{g,ciljni} = 0.4 * g$) največji nihajni čas, ki bi bil primeren za konstrukcijo. Prek togosti ($k = \frac{4\pi^2 m}{T^2}$) smo tako določili minimalen vztrajnostni moment prereza ($I = \frac{kh^3}{3E}$). Iz tabele s podatki za različne HEB jeklene profile smo izbrali prvi prerez, ki ima vztrajnostni moment prereza večji od potrebnega. Nato pa smo račun z zapisanimi enačbami izvedli »nazaj« ($k = \frac{3EI}{h^3}$; $T = 2\pi \sqrt{\frac{m}{k}}$) in iz grafa normiranih pospeškov glede na izračunani nihajni čas razbral največji pomik. S tem pomikom in ostalimi podatki iz tabele podatkov za HEB jeklene profile smo izvedli še kontrolo napetosti zaradi lastne teže stebra.

5. vaja (!!!)

Poznamo: višini etaž (h1, h2), raster v x- in y-smeri, dimenzije elementov (debelina in dolžina sten, dimenzije prečk, notranjih in zunanjih stebrov), maks pospešek tal, elastični in strižni modul betona, lastno težo in spremenljivo obtežbo.

1. Račun geometrijskih karakteristik:

$$I_s = \frac{L_s^3 d_s}{12} * 0,5 \text{ (razpokanost prerezov, vzt. moment stene)}$$

$$A_s = \frac{L_s d_s}{1,2} * 0,5 \text{ (strižni prerez; samo za stene; razpokanost)}$$

$$I = \frac{b^4}{12} * 0,5 = \frac{h^4}{12} * 0,5 \text{ (za kvadraten prečni prerez; razpokanost)}$$

2. Račun mase

Izračunamo površino tlorisa A_t (pazi: dimenzije so ponavadi do sredine stebrov; prišteti je treba še polovici čisto zunanjih stebrov)

$$\text{Masa zaradi stalne obtežbe: } m_g = A_t * g / 9,81$$

$$\text{Masa zaradi spremenljive obtežbe: } m_q = A_t * q / 9,81$$

$$\text{Masa v 1. etaži: } m_1 = m_g + 0,15 * m_q$$

$$\text{Masa v 2. etaži: } m_2 = m_g + 0,30 * m_q$$

$$\text{Masa skupaj: } m = m_1 + m_2$$

Masna matrika:

m	m1	0
	0	m2

3. Podajnostno matriko stene (oz. vseh vertikalnih konzolnih elementov) izračunamo po enačbi:

Člene podajnostnih matrik za konzolne vertikalne elemente (nalogi 1 in 2) izračunaj z naslednjo enačbo:

$$d_{ji} = \frac{z_j}{GA_s} + \frac{z_j^2}{6EI} (3z_i - z_j); z_j \leq z_i$$

kjer sta z_i in z_j koti i -te in j -te etaže (z_j mora biti obvezno manjša ali enaka z_i), G strižni modul, E elastični modul, A_s strižni prerez in I vztrajnostni moment.

Podajnostno matriko okvirjev izračunamo po enačbi:

Člene podajnostnih matrik za okvire (naloga 3) izračunaj z naslednjimi enačbami:

$$d_{11} = \frac{h_1^2}{12} \left(\frac{1}{s_1} + \frac{1}{4p_1 + 0,33s_1} \right)$$

$$d_{12} = d_{11} + \frac{h_1 h_2}{48p_1 + 4s_1}$$

$$d_{22} = d_{11} + \frac{h_2^2}{12} \left(\frac{1}{s_2} + \frac{1}{4p_1} + \frac{1}{4p_2} \right) + \frac{h_1 h_2}{24p_1 + 2s_1}$$

$$d_{ji} = d_{jj} + \frac{h_j h_{j+1}}{48p_j}; j < i \text{ in } i \geq 3$$

$$d_{jj} = d_{j-1,j-1} + \frac{h_j^2}{12} \left(\frac{1}{s_j} + \frac{1}{4p_{j-1}} + \frac{1}{4p_j} \right) + \frac{h_{j-1} h_j}{24p_{j-1}}; j \geq 3$$

kjer sta h_i in h_j etažni višini i -te in j -te etaže, s_i in p_i pa prispevka stebrov in prečk v i -ti etaži k togosti okvira. Prispevka s_i in p_i se določita z naslednjima enačbama:

$$s_i = \sum_k \frac{EI_{i,k}}{h_i}$$

$$p_i = \sum_k \frac{EI_{i,k}}{l_{i,k}}$$

Pri tem je E elastični modul, $I_{i,k}$ vztrajnostni moment k -tega elementa (stebra ali prečke) v i -ti etaži, h_i višina i -te etaže in $l_{i,k}$ dolžina k -te prečke v i -ti etaži.

Zatem izračunamo togostne matrike vseh makroelementov (stene, okvirjev) z inverzom matrike:

»Peš« inverz matrike 2x2:

a) Izračunamo determinanto matrike ($\det D = d_{11}d_{22} - d_{12}d_{21}$)

b) Poračunamo posamezne člene:

$$k_{11} = \frac{d_{22}}{\det D}; \quad k_{12} = -\frac{d_{21}}{\det D}; \quad k_{22} = \frac{d_{11}}{\det D}; \quad \text{pazi na minus pri računu } k_{12}; \quad k_{12} = k_{21}$$

Togostno matriko celotne konstrukcije dobimo tako, da seštejemo ustrezno število togostnih matrik posameznih makroelementov (nikakor ne smemo seštevati podajnostnih matrik), podajnostno pa z inverzom togostne matrike za celo konstrukcijo.

4. Račun nihajnega časa

Predpostavimo trikoten potek sil, predpostavimo silo v drugi (oz. najvišji) etaži, npr.

$$F_2 = 1000 \text{ kN} ; \text{ potem z razmerjem višin etaž dobimo še silo v nižjih etažah } (F_1 = F_2 \frac{h_1}{(h_1+h_2)}).$$

Izračunamo pomike pri dani obtežbi: $\{s\} = [D]\{F\}$; nato poračunamo m^* in k^* za račun nihajnega časa konstrukcije:

$$m^* = m_1 * s_1^2 + m_2 * s_2^2$$

$$k^* = s_1 F_1 + s_2 F_2$$

Imamo vse podatke za izračun nihajnega časa konstrukcije:

$$T = 2\pi \sqrt{\frac{m^*}{k^*}}$$

Ocena »čez palec« (hitra kontrola) je $T = (0,1 \text{ do } 0,2) * \text{št. etaž}$

Zavedati se je potrebno, da izbira sile (velikost) ne vpliva na rezultat nihajnega časa (pri večji sili se tudi pomik sorazmerno poveča, razmerje med m^* in k^* ostane enako).

Izračunamo tudi faktor obnašanja q :

Preglednica 5.1: Osnovne vrednosti faktorja obnašanja (q_0) za sisteme, ki so pravilni po višini

Vrsta konstrukcije	DCM	DCH
Okvirni sistem, mešani sistem, sistem povezanih sten (sten z odprtini)	$3,0\alpha_w/\alpha_1$	$4,5\alpha_w/\alpha_1$
Sistem nepovezanih (konzolnih) sten	3,0	$4,0\alpha_w/\alpha_1$
Torzijsko podajen sistem	2,0	3,0
Sistem obrnjenega nihala	1,5	2,0

Pri nas bomo uporabljali $q_0 = 3,0 \alpha_0/\alpha_1$; α_0/α_1 vzamemo iz spodnjih podatkov (ponavadi 1,2):

Če faktor α_w/α_1 ni izpeljan z eksplicitnim računom, se lahko za stavbe, ki so v tlorisu pravilne, uporabijo naslednje približne vrednosti za α_w/α_1 :

a) okvirni ali mešani sistemi, ekvivalenten okvirnemu:

- enoetažne stavbe: $\alpha_w/\alpha_1=1,1$,
- večetažni okvirni z enim poljem: $\alpha_w/\alpha_1=1,2$,
- večetažni okvirni z več polji ali večetažni mešani sistemi, ekvivalentni okvirnemu: $\alpha_w/\alpha_1=1,3$;

b) stenasti sistemi in mešani sistemi, ekvivalenten stenastemu:

- stenasti sistemi s samo dvema nepovezanima stenama v vsaki vodoravni smeri: $\alpha_w/\alpha_1=1,0$,
- drugi sistemi z nepovezanimi stenami: $\alpha_w/\alpha_1=1,1$,
- mešani sistemi, ekvivalenten stenastemu ali sistemi povezanih sten (sten z odprtini): $\alpha_w/\alpha_1=1,2$.

Izračunati moramo še α_0, k_w in končni q

$$\alpha_0 = \frac{\sum h_w i}{\sum l_{wi}}; \quad \sum h_w i \quad \text{je vsota višin vseh sten (npr. 2 steni, 2 etaži} \rightarrow (h_1 + h_2) * 2;$$

$$\sum l_{wi} \quad \text{je vsota dolžin vseh sten, v našem primeru } 2 * L_s;$$

Zgornja enačba velja, če razmerja h_w/L_w posameznih sten i niso pomembno različna.

$$k_w = \left\{ \begin{array}{l} 1,00 \text{ za okvire in okvirom enakovredne mešane sisteme} \\ (1 + \alpha_0) / 3 \leq 1, \text{ toda ne več kot } 0,5 \\ \text{za stenaste, stenam enakovredne mešane in torzijsko fleksibilne sisteme} \end{array} \right\}$$

Če pride k_w nekoliko več kot 1 (npr. 1,2), vzamemo kar $k_w = 1$

Potem izračunamo še q po formuli:

$$q = q_0 k_w$$

Za izračun sil na konstrukcijo moramo izračunati še S_d :

$$T_B \leq T \leq T_C : S_d(T) = a_g \cdot S \cdot \frac{2,5}{q}$$

$$T_C \leq T \leq T_D : S_d(T) \begin{cases} = a_g \cdot S \cdot \frac{2,5}{q} \cdot \left[\frac{T_C}{T} \right] \\ \geq \beta \cdot a_g \end{cases}$$

$$T_D \leq T : S_d(T) \begin{cases} = a_g \cdot S \cdot \frac{2,5}{q} \cdot \left[\frac{T_C T_D}{T^2} \right] \\ \geq \beta \cdot a_g \end{cases}$$

Pri čemer imamo izračunan nihajni čas T , podan a_g (kot vrednost g – gravitacijskega pospeška, $g=9,81$), $\beta=0,2$, podatke T_B, T_C, T_D in S pa preberemo iz spodnje tabele (odvisno od tipa tal):

Ground type	S	T_B (s)	T_C (s)	T_D (s)
A	1,0	0,15	0,4	2,0
B	1,2	0,15	0,5	2,0
C	1,15	0,20	0,6	2,0
D	1,35	0,20	0,8	2,0
E	1,4	0,15	0,5	2,0

Izračun sile:

$$F_b = S_d(T) * m_t * \lambda$$

m_t ... masa vseh etaž skupaj

$$\lambda = \begin{cases} 0,85; & \text{če je število etaž} > 2 \text{ in } T \geq 2T_C \\ 1; & \text{sicer} \end{cases}$$

5. Določitev pomikov in potresnih sil na makroelemente

$$F_i = F_b \frac{z_i m_i}{\sum z_j m_j}; \quad \text{npr. } F_1 = F_b \frac{z_1 m_1}{z_1 m_1 + z_2 m_2}; \quad \text{kontrola: } F_1 + F_2 + \dots = F_b$$

Etažne prečne sile:

Če imamo 2 etaži: v 2. (najvišji) etaži: $Q = F_2$; v 1. etaži: $Q = F_1 + F_2$

Račun pomikov (računamo s podajnostno matriko za celotno konstrukcijo):

$$\{u\} = [D]\{F\}; \quad u_1 = d_{11}F_1 + d_{12}F_2; \quad u_2 = d_{21}F_1 + d_{22}F_2$$

Pomiki vseh makroelementov so enaki!

Račun sil za posamezen makroelement: $\{F_s\} = [K_s]\{u\}$ – enačba za steno.

Za ostale makroelemente analogno.

Kontrola: $\sum F_{i1} = F_1$; enako za cel vektor sil.

Račun dejanskih pomikov: dobljene računске pomike pomnožimo s faktorjem obnašanja q

$$u_{dej,1} = u_1 q; \quad u_{dej,2} = u_2 q$$

6. Obremenitev nosilnih elementov zaradi potresne obtežbe

Momente zmeraj računamo na dnu posamezne etaže.

Pri steni izračunamo prečne sile: Če imamo 2 etaži: v 2. (najvišji) etaži: $Q = F_2$; v 1. etaži: $Q = F_1 + F_2$

Momente pa kot (2 etaži): na vrhu je 0 (stena=konzola), na koti prve etaže (h_1) je $M = F_2 h_2$; na dnu pa je $M = F_2(h_1 + h_2) + F_1 h_1$.

Pri okvirih prečne sile poračunamo analogno, le da se sila porazdeli med vse stebre enako, npr.:

$$Q_2 = \frac{F_2}{4}; \quad Q_1 = \frac{F_1 + F_2}{4} \quad (\text{primer za 2 etaži, 4 stebre})$$

Pri momentu pa izračunamo kot: nična točka momenta je na 0,5 (50%) višine v vseh etažah, razen v prvi je na 0,7 (70%) višine (ker je v prvi etaži spodaj stebel vpet). Vrednost momenta na dnu etaže izračunamo iz vrednosti prečne sile:

$$M_1 = Q_1 * 0,7 * h_1; \quad M_2 = Q_2 * 0,5 * h_2$$

7. Kontrola etažnih pomikov (preverimo za vsako etažo posebej)

$$v * d_r \leq \alpha * h$$

$v = 0,5$ (5krat manjša povratna doba → 2krat šibkejši potresi)

d_r ... dejanski pomiki posamezne etaže; $d_{r1} = u_{dej,1}$; $d_{r2} = u_{dej,2}$

h ... etažna višina (h_1 oz. h_2)

$$\alpha = \begin{cases} 0,005; & \text{neduktilni nekonstrukcijski elementi} \\ 0,0075; & \text{duktilni nekonstrukcijski elementi} \\ 0,01; & \text{potresni odziv nekonst. el. je neodvisen od odziva konstrukcije} \end{cases}$$

$\alpha = 0,005$